



**SINDHI HIGH SCHOOL, BENGALURU . K . K . ROAD  
HALF YEARLY EXAMINATION 2023-24**

SUBJECT: ENGLISH

CLASS: III A/B/C

NAME: \_\_\_\_\_

ROLL NO: \_\_\_\_\_

MAX MARKS: 40

READING TIME: 8:00-8:15

WRITING TIME: 8:15-10:15

DATE: 10/10/2023

NO. OF SIDES: 7

**General Instructions:**

1. This paper contains three sections.
2. Section A- Reading -10 marks
3. Section B- Writing and Grammar -16 marks
4. Section C- Literature -14 marks
5. Answer **ALL** questions.

**SECTION A (Reading)**

- I. Read the following passage carefully: (5marks)

Like alligators, crocodiles are also reptiles. Crocodiles are also cold-blooded, they lay eggs and their body is covered with dry scales. Sometimes alligators are called gators and crocodiles are called crocs. The difference between them is the width of their snout (mouth). Alligators have wide noses, while crocodiles have narrower ones. Generally, alligators are darker in colour. While alligators are found only in fresh water in the United States and China, crocodiles live in Asia, Africa, America and Australia. Some crocodiles live in saltwater, while some others in fresh water. Both alligators and crocodiles are great swimmers, they can swim very fast. When they are on land, they can lie for hours in the Sun. But they can be dangerous as they can run very fast while attacking. Crocodiles are some of the most dangerous animals.

**Based on the reading of the above passage, tick the correct answer:**

- a) Alligators and crocodiles are
- i) Insects
  - ii) Reptiles
  - iii) Fishes
  - iv) Birds

- b) Crocodiles are also called
- i) gators
  - ii) whales
  - iii) mammals
  - iv) crocs
- c) Alligators live in
- i) Asia and Africa
  - ii) America and Australia
  - iii) United States and China
  - iv) Nepal and Pakistan
- d) Alligators and crocodiles are
- i) Great swimmers
  - ii) Can lie on the land under the Sun for hours
  - iii) Run very fast
  - iv) All of the above
- e) Which word in the passage means the antonym (opposite) of safe
- i) guarded
  - ii) dangerous
  - iii) sheltered
  - iv) protected

II. **Read the following passage and answer the questions:** (5marks)

1. One day, Manu was going to his grandma's house. On the way he found a 500 rupee note. He picked it up and looked around, to know whose money it was. He didn't find anyone around. So, he kept the money with him and went on. After sometime he felt thirsty. He didn't have water. He saw a grocer's shop nearby. He went to the shop and asked for water. The shopkeeper said, "I don't have water right now. But I have juice bottles. If you want, you can buy juice."
2. Manu took a juice bottle and paid for it. He drank the juice and started walking again. A little later, he found a woman on the road who was searching for something. He stopped there and asked the woman, "What are you searching for, Aunty?" The woman replied, "I have lost my 500 rupees note. I need the money urgently. I must buy medicine for my son who is in the hospital." The boy realized and said, "Oh! Aunty, please stop searching, I have your money. I found it a little behind on the path. I didn't see anyone around. So, I kept the money with me. Now take this and buy medicine."

3. Manu continued, "But Aunty, I am so sorry. I bought a juice bottle, worth rupees 20, from your money as I was very thirsty. Here's rupees 480. I am really sorry, I will return your money once I get home. Please give me your address." The woman was happy at Manu's honesty. She blessed him and rushed to the hospital.

1. Where was Manu going?

Ans. \_\_\_\_\_

2. Who did Manu ask for water?

Ans. \_\_\_\_\_

3. What was the woman searching for?

Ans. \_\_\_\_\_

4. What made the woman happy?

Ans. \_\_\_\_\_

5. Find words from the passage which are the synonyms (same meaning) of:

a) close by- \_\_\_\_\_ (Para 1)

b) truthfulness- \_\_\_\_\_ (Para 3)

### **SECTION B (WRITING & GRAMMAR)**

III. **Fill in the blanks with the articles 'a', 'an' and 'the':** (1/2x6=3marks)

I went on a) \_\_\_\_\_ picnic on Sunday morning to Cubbon Park. b) \_\_\_\_\_ Sun was shining brightly and I was happy that I had carried c) \_\_\_\_\_ umbrella. I wore d) \_\_\_\_\_ orange dress. I visited most of e) \_\_\_\_\_ rides and f) \_\_\_\_\_ toy train.

**IV. From the brackets given below fill in the blanks with appropriate pronouns;** (1/2x8=4marks)

(she, they, he, them, their, his, her, it)

Arun and Reema are twins. a) \_\_\_\_\_ went to the same school. Arun had many friends and b) \_\_\_\_\_ would always love to play cricket with c) \_\_\_\_\_. On the other hand, d) \_\_\_\_\_ twin sister, Reema did not have many friends, but e) \_\_\_\_\_ studied very well. Everyone in the class would ask f) \_\_\_\_\_ for help. They had a pet dog called Bruno. g) \_\_\_\_\_ was a birthday gift given by h) \_\_\_\_\_ parents.

**V. Circle the adjectives (describing words) in the following paragraph:**

(1/2x8=4marks)

A king lived in a big palace with beautiful gardens. There was a small lake nearby. Once, the two princes were playing near the lake. They saw a green turtle and ran back to the palace in fear. They went and told their father, "There was a terrible demon lying on the bank of the lake!" The king was very worried. He sent some soldiers to the lake to see who the demon was. When the soldiers saw the turtle, they laughed out loudly!

**VI. Look at the picture below and write a paragraph describing it using adjectives.**

**Give a suitable title to your paragraph.** (5marks)



SECTION C (LITERATURE)

**VII. Read the following extract and answer the questions: (1x3=3 marks)**

“Look at the baby windhovers! Look at their fluffy feathers!”

1. Name the lesson from which the above extract is taken. Who has written this lesson?

Ans. \_\_\_\_\_

2. Who is the speaker of the above words?

Ans. \_\_\_\_\_

3. At the end of the lesson, who saves the baby windhover?

Ans. \_\_\_\_\_

**VIII. Answer the following questions: (2x4=8 marks)**

1. In the poem 'The Brook,' when the speaker lies on the grass, what does she want the Brook to tell her?

Ans. \_\_\_\_\_  
\_\_\_\_\_  
\_\_\_\_\_

2. What did the priest tell Benjamin's parents and did his words come true?

Ans. \_\_\_\_\_  
\_\_\_\_\_  
\_\_\_\_\_

3. How did Manoj Uncle treat Padmini's wounds?

Ans. \_\_\_\_\_  
\_\_\_\_\_  
\_\_\_\_\_

4. In the poem 'Frog in a well,' how does the frog see the world?

Ans. \_\_\_\_\_  
\_\_\_\_\_  
\_\_\_\_\_

**IX. Answer the following question: (3marks)**

1. In the lesson, 'The Golden Bird,' describe how the three animals saved the golden bird from the eagle?

Ans. \_\_\_\_\_



SINDHI HIGH SCHOOL, K K ROAD, BENGALURU  
HALF YEARLY EXAMINATION -2022-2023  
SUBJECT : II Language Kannada



Class: 3, Sec: \_\_\_\_\_

No of sides - 5

Max Marks: 40

Date: 9-10-2023

Reading Time: 8:00 to 8:15 AM

Name: \_\_\_\_\_

Writing Time: 8:15 to 10:15 AM

Roll No: \_\_\_\_\_

1 ಕೆಳಗಿನ ಗದ್ಯಭಾಗವನ್ನು ಓದಿ, ಕೊಟ್ಟಿರುವ ಪ್ರಶ್ನೆಗಳಿಗೆ ಸರಿಯಾದ ಉತ್ತರವನ್ನು  
ಆರಿಸಿ ಬರೆಯಿರಿ. 1X5=5

ನಮ್ಮೂರಿನಲ್ಲಿ ಪ್ರತಿ ರವಿವಾರ ಸಂತೆ ನಡೆಯುತ್ತದೆ. ಸುತ್ತಮುತ್ತಲಿನ ಹಳ್ಳಿಗಳಿಂದ ಜನರು ಬರುತ್ತಾರೆ. ಎತ್ತಿನ ಬಂಡಿಯ ಘಲ್ ಘಲ್ ಶಬ್ದ ಬೆಳಿಗ್ಗೆಯೇ ಆರಂಭವಾಗುತ್ತದೆ. ಬಂದವರೆಲ್ಲ ಸಂತೆಯಲ್ಲಿ ಸೇರುತ್ತಾರೆ. ಅಲ್ಲಿ ಅಂಗಡಿಗಳ ಸಾಲೇ ಸಾಲು. ಜನರು ತಾವು ಬೆಳೆದ ಧಾನ್ಯಗಳನ್ನು ಮಾರುತ್ತಾರೆ. ತಮ್ಮ ಮನೆಗಳಿಗೆ ಬೇಕಾದ ಪದಾರ್ಥಗಳನ್ನು ಕೊಂಡುಕೊಳ್ಳುತ್ತಾರೆ. ಜನರು ಸಂಜೆಯಾಗುತ್ತಲೇ ತಮ್ಮ ತಮ್ಮ ಊರುಗಳಿಗೆ ಹೊರಡುವರು.

ಪ್ರಶ್ನೆಗಳು:

೧. ಸುತ್ತಮುತ್ತಲಿನ \_\_\_\_\_ ಜನರು ಬರುತ್ತಾರೆ.

ಅ) ಕಾಡುಗಳಿಂದ ಆ) ಹಳ್ಳಿಗಳಿಂದ ಇ) ನಗರಗಳಿಂದ ಈ) ಬೆಟ್ಟಗಳಿಂದ

೨. ಎತ್ತಿನ ಬಂಡಿಯ \_\_\_\_\_ ಶಬ್ದ ಬೆಳಿಗ್ಗೆಯೇ ಆರಂಭವಾಗುತ್ತದೆ.

ಅ) ಘಲ್ ಘಲ್ ಆ) ಜಲ್ ಜಲ್ ಇ) ಟಕ್ ಟಕ್ ಈ) ಝಣ್ ಝಣ್

೩. ಪ್ರತಿ \_\_\_\_\_ ಸಂತೆ ನಡೆಯುತ್ತದೆ.

ಅ) ಸೋಮವಾರ ಆ) ಶನಿವಾರ ಇ) ರವಿವಾರ ಈ) ಶುಕ್ರವಾರ

೪. ಜನರು \_\_\_\_\_ ಯಾಗುತ್ತಲೇ ತಮ್ಮ ತಮ್ಮ ಊರುಗಳಿಗೆ ಹೊರಡುವರು.

ಅ) ರಾತ್ರಿ ಆ) ಬೆಳಿಗ್ಗೆ ಇ) ಮಧ್ಯಾಹ್ನ ಈ) ಸಂಜೆ

೫. ಜನರು ತಾವು ಬೆಳೆದ \_\_\_\_\_ ಮಾರುತ್ತಾರೆ.

ಅ) ಧಾನ್ಯಗಳನ್ನು    ಆ) ಹುಲ್ಲನ್ನು    ಇ) ಹತ್ತಿಯನ್ನು    ಈ) ಕಬ್ಬನ್ನು

II ಕೆಳಗಿನ ಪ್ರಶ್ನೆಗಳಿಗೆ ನಾಲ್ಕು ಉತ್ತರಗಳನ್ನು ಕೊಡಲಾಗಿದೆ. ಅವುಗಳಲ್ಲಿ ಸರಿಯಾದ ಉತ್ತರವನ್ನು ಆರಿಸಿ ಬರೆಯಿರಿ. 1X12=12

೧. 'ಹುಸಿ' ಪದದ ಸಮಾನಾರ್ಥಕ ಪದ \_\_\_\_\_

ಅ) ಅನ್ಯಾಯ    ಆ) ಸತ್ಯ    ಇ) ಸುಳ್ಳು    ಈ) ನ್ಯಾಯ

೨. 'ನೀತಿ' ಪದದ ವಿರುದ್ಧ ಪದ \_\_\_\_\_

ಅ) ಅನೀತಿ    ಆ) ಆನೀತಿ    ಇ) ಅನತಿ    ಈ) ಅಣೀತಿ

೩. 'ಯುವಕ' ಪದದ ಬಹುವಚನ ರೂಪ \_\_\_\_\_

ಅ) ಯುವಕರ    ಆ) ಯುವಕರು    ಇ) ಯುವಕಗಳು    ಈ) ಯುವಾಕ

೪. 'ಗಳತಿ' ಪದದ ಪುಲ್ಲಿಂಗ ಪದ \_\_\_\_\_

ಅ) ಘಳೆಯ    ಆ) ಹುಡುಗ    ಇ) ಗೆಳೆಯ    ಈ) ಗೆಲೆಯ

೫. 'ತಲೆ + ಅನ್ನು' ಕೂಡಿಸಿ ಬರೆದಾಗ ಬರುವ ರೂಪ \_\_\_\_\_

ಅ) ತಲೆಯನ್ನು    ಆ) ಧಲೆಯನ್ನು    ಇ) ತಲೆಯನ್ನು    ಈ) ತಾಳೆಯನ್ನು

೬. ವಿಜಾತೀಯ ಒತ್ತಕ್ಷರವನ್ನು ಗುರುತಿಸಿ

ಅ) ಹಣ್ಣು    ಆ) ಬಸು    ಇ) ಪ್ರಪಂಚ    ಈ) ಕನ್ನಡ

೭. ಕಾಡು ಪ್ರಾಣಿ : ನರಿ :: ಸಾಕು ಪ್ರಾಣಿ : \_\_\_\_\_

ಅ) ಕರಡಿ    ಆ) ಸಿಂಹ    ಇ) ಆನೆ    ಈ) ಕುರಿ

೮. ಇವುಗಳಲ್ಲಿ ನಾಮಪದವನ್ನು ಗುರುತಿಸಿ.

ಅ) ಅಳು    ಆ) ರಾಮ    ಇ) ಕೊಡು    ಈ) ಹೊರಗೆ

೯. ಅ, ಔ : ಸ್ವರಗಳು :: ಅಂ, ಅಃ : \_\_\_\_\_

ಅ) ವ್ಯಂಜನಗಳು    ಆ) ಒತ್ತಕ್ಷರಗಳು    ಇ) ಯೋಗವಾಹಗಳು    ಈ) ಅನುನಾಸಿಕ

೧೦. 'ತೋರಿದರು' ಪದ್ಯದಲ್ಲಿರುವಂತೆ ಪ್ರಾಸಪದ \_\_\_\_\_

ಅ) ಹಾರಿದರು    ಆ) ಬೀರಿದರು    ಇ) ಕೋರಿದರು    ಈ) ಓಡಿದರು

೧೧. ಸಜಾತೀಯ ಒತ್ತಕ್ಷರವನ್ನು ಗುರುತಿಸಿ \_\_\_\_\_

ಅ) ಸತ್ಯ    ಆ) ರಕ್ತ    ಇ) ಅಕ್ಷರ    ಈ) ಬೆಕ್ಕು



೧೨. ಚ್ + ಈ : ಚೀ :: ಬ್ + ಒ : \_\_\_\_\_

ಅ) ಬು

ಆ) ಬೊ

ಇ) ಬೂ

ಈ) ಬೋ

III ಖಾಲಿ ಬಿಟ್ಟಿರುವ ಸ್ಥಳಗಳನ್ನು ಸೂಕ್ತವಾದ ಉತ್ತರಗಳಿಂದ ಆರಿಸಿ ಬರೆಯಿರಿ. 1X4=4

೧. ಮಳೆ ಬಂದು \_\_\_\_\_ ಬಲು ಕೆಟ್ಟು ಹೋಗಿತ್ತು.

ಅ) ರಸ್ತೆ

ಆ) ಮನೆ

ಇ) ನದಿ

ಈ) ನೀರು

೨. ಬನ್ನಿರಿ ಎಲ್ಲರೂ \_\_\_\_\_ ಹಾಡುವಾ.

ಅ) ಹಾಡಿ

ಆ) ಕೂಡಿ

ಇ) ಮಾಡಿ

ಈ) ಕುಣಿದು

೩. ಮೇಲುಸಿರು \_\_\_\_\_ ನಾ ಓಡುತ್ತಿದೆ.

ಅ) ಹಿಡಿಯುತ್ತ

ಆ) ಮಿಡಿಯುತ್ತ

ಇ) ಬಿಡುತ್ತ

ಈ) ನೋಡುತ್ತ

೪. ಶ್ರಮದ \_\_\_\_\_ ದೇಶಕೆ ಕಲಿಸಿ

ಅ) ಪಾಠವ

ಆ) ನೋಟವ

ಇ) ಶಕ್ತಿಯ

ಈ) ಪ್ರೀತಿಯ

IV ಈ ಪ್ರಶ್ನೆಗಳಿಗೆ ಒಂದು ವಾಕ್ಯದಲ್ಲಿ ಉತ್ತರಿಸಿ .

1X5=5

೧. ಮಾಸ್ತರರ ಹೆಸರೇನು ?

೨. ಚಿಟ್ಟೆ ಯಾರಿಗೆ ಗುಟ್ಟನ್ನು ಹೇಳುತ್ತದೆ?

೩. ಗಾಂಧಿ ಜಯಂತಿಯನ್ನು ಎಂದು ಆಚರಿಸಲಾಗುತ್ತದೆ ?

೪. ನಾಯಿ ಎಲ್ಲಿ ಮಲಗಿತ್ತು?

೫. ಭೀಕರ ಮಳೆ ಬಂದಾಗ ಮಹಿಳಾ ಗುಪ್ತಾ ಎಲ್ಲಿದ್ದಳು?

V ಈ ಪ್ರಶ್ನೆಗೆ ಎರಡು-ಮೂರು ವಾಕ್ಯಗಳಲ್ಲಿ ಉತ್ತರಿಸಿ.

2X2=4

೧. ರಾಷ್ಟ್ರಪತಿಯವರು ಮಕ್ಕಳಿಗೆ ನೀಡಿದ ಸಂದೇಶವೇನು?

೨. " ನೀನೇ ಎತ್ತಿಕೋ, ನಾನೇಕೆ ಎತ್ತಲಿ"? ಈ ಮಾತನ್ನು ಯಾರು ಯಾರಿಗೆ ಹೇಳಿದರು?

VI ಸ್ವಂತ ವಾಕ್ಯ ಮಾಡಿ.

1X1=1

೧. ಸತ್ಯ -

ಕೊಟ್ಟಿರುವ ಅಕ್ಷರಗಳಿಂದ ಪದ ರಚಿಸಿ:

1x2=2

೧. ಸ - \_\_\_\_\_

೨. ಮ - \_\_\_\_\_

VIII ಕೊಟ್ಟಿರುವ ಅಕ್ಷರಗಳಿಂದ ಅರ್ಥಪೂರ್ಣ ಪದ ರಚಿಸಿ

1X4=4

ಚ	ದಾ	ತು
ಮಾ	ಅ	ನ
ಣ್ಣ	ಕೃ	ರಿ

೧. \_\_\_\_\_

೨. \_\_\_\_\_

೩. \_\_\_\_\_

೪. \_\_\_\_\_

IX ಕೆಳಗೆ ಕೊಟ್ಟಿರುವ ಯಾವುದಾದರೂ ಒಂದು ವಿಷಯದ ಬಗ್ಗೆ ಮೂರು ವಾಕ್ಯಗಳಲ್ಲಿ ಬರೆಯಿರಿ.

3X1=3

೧. ನನ್ನ ನೆಚ್ಚಿನ ಪ್ರಾಣಿ

ಅಥವಾ

೨. ಮರದ ಉಪಯೋಗಗಳು


\*\*\*\*\*



SINDHI HIGH SCHOOL, K.K. ROAD, BENGALURU - 01

HALF YEARLY EXAM- 2023-24

SUBJECT: HINDI (additional lang.)



Name: \_\_\_\_\_ Roll No: \_\_\_\_\_ Max. Marks: 40

Class: III A/B/C

Timings: 2h 15 Minutes

Date: 5/10/2023

Reading time: 8:00-8:15

No. of sides: 6

Writing time: 8:15-10:15

खंड: क

[I] दिए गए गद्यांश को पढ़कर सही उत्तर चुनिए: 1x5=5

गोलू बहुत आलसी बच्चा था। रोज सुबह गोलू को उसकी माँ नींद से जगाता था। पर इससे गोलू को बहुत गुस्सा आता था, क्योंकि उसे नींद बहुत प्यारी थी। समय पर न उठने के कारण उसे रोज विद्यालय जाने में देर हो जाती थी। एक दिन गोलू ने सूरज दादा से प्रार्थना की कि वह कुछ दिनों की छुट्टी ले लें, ताकि वह आराम से सोता रहे। सूरज दादा ने सोचा कि गोलू को सबक सिखाना चाहिए। इसलिए वह आकाश में कुछ दिन प्रकट नहीं हुए।

1. गोलू बहुत कैसा बच्चा था?

(i) आलसी (ii) कामकाजी (iii) शैतान (iv) मेहनती

2. माँ किसे नींद से जगाती थी ?

(i) भोलू को (ii) गोलू को (iii) मोलू को (iv) रोलू को

3. गोलू को सुबह उठाने पर बहुत गुस्सा क्यों आता था?

(i) उसे नींद बहुत प्यारी थी। (ii) उसे नींद नहीं आती थी। (iii) उसके पास घड़ी नहीं थी। (iv) उसे पाठशाला जाना था

4. गोलू को कहाँ जाने में देर हो जाती थी?

(i) घर (ii) उपवन (iii) विद्यालय (iv) पार्टी

5. गोलू ने किस से प्रार्थना की?

(i) चंदा मामा से (ii) माता से (iii) सूरज दादा से (iv) पिता से

खंड : ख

$\frac{1}{2} \times 4 = 2$

[III] वचन बदलकर लिखिए :

(i) बच्चा - \_\_\_\_\_ (iii) घंटा - \_\_\_\_\_

(ii) खुशी - \_\_\_\_\_ (iv) पत्ता - \_\_\_\_\_

[III] खाली स्थान में सही क्रिया शब्द चुनकर लिखिए :

$1 \times 2 = 2$

(i) उन्होंने दुनिया में भारत का नाम ऊँचा \_\_\_\_\_ (किया / कीजिए)

(ii) जो खेल पसंद हो, वही \_\_\_\_\_ (खेलो / चलो)

[IV] विलोम शब्द लिखिए :

$\frac{1}{2} \times 4 = 2$

(i) नया - \_\_\_\_\_ (iii) अच्छाई - \_\_\_\_\_

(ii) कुशल - \_\_\_\_\_ (iv) शहर - \_\_\_\_\_

[V] पर्यायवाची शब्द लिखिए :

$\frac{1}{2} \times 4 = 2$

(i) हवा - \_\_\_\_\_

(ii) आसमान - \_\_\_\_\_

[VI] वाक्य बनाओ :

$1 \times 2 = 2$

(i) हरे-भरे -

(ii) भारत -

[VII] सही विशेषण का प्रयोग कर के वाक्य पूरे कीजिए :

$1 \times 2 = 2$

(i) चाँद ने \_\_\_\_\_ झिंगोला सिलवाने के लिए कहा। (मोटा / पतला)

(ii) चाँद की माँ \_\_\_\_\_ हो जाती है। (खुश / परेशान)

[VIII] अनेक शब्दों के लिए एक शब्द लिखिए :

1x2=2

(i) फटे दूध से निकली ठोस वस्तु - \_\_\_\_\_

(ii) जिस दिन किसी का जन्म हुआ हो - \_\_\_\_\_

[IX] अशुद्ध शब्दों को शुद्ध कर के लिखिए :

½ x2=1

(i) बाहमण - \_\_\_\_\_

(ii) महाराज - \_\_\_\_\_

[X] नीचे दिए गए वाक्यों में उपयुक्त विराम चिह्न लगाइए : ½ x2=1

(i) कितना सुंदर फूल है

(ii) तुम कहीं जा रहे हो

खंड : ग

[XI] दिए गए गद्यांश को पढ़कर सही उत्तर चुनिए:

1x5=5

हिमालय की गोद में नदी का घर था। उसके जल में अधिकतर बूँदें बहुत नटखट थीं। उन्हें एक जगह से दूसरी जगह घूमना अच्छा लगता था। घर में मन नहीं लगने पर ये बूँदें नदी की तेज़ धारा में तैरने वाली जाती थीं। पर एक बूँद पानी की तलहटी में डरी - सहमी बैठी रहती थी। सभी बूँदें उसे शर्मीली के नाम से बुलाया करती थीं।

1. हिमालय की गोद में किस का घर था?

(i) तालाब का (ii) झील का (iii) नदी का (iv) शर्मीली का

2. नदी की अधिकतर बूँदें कैसी थीं ?

(i) नटखट (ii) शर्मीली (iii) घुमक्कड़ (iv) दुखी

3. बूँदों को क्या अच्छा लगता था ?

(i) सोना (ii) खाना (iii) घूमना (iv) पढ़ना

4. घर में मन नहीं लगने पर ये बूँदें क्या करती थी ?

(i) सो जाती थी (ii) तैरने चली जाती थी (iii) घबरा जाती थी (iv) पानी पीती थी

5. शर्मिली कौन थी ?

(i) लड़की (ii) लड़का (iii) बादल (iv) पानी की बूँद

**[XII] नीचे दिए गए प्रश्नों के उत्तर लिखिए :**

**1x10=10**

1. क्या करने से देश बड़ा होगा ?

---

2. चीची चूहे को क्या खाने का मन कर रहा था ?

---

3. बनिया कैसा था ?

---

4. न्याय के लिए ब्राह्मण किस के पास गया ?

---

5. बुद्ध पूर्णिमा का त्यौहार किस के जन्म के उपलक्ष्य में मनाया जाता है ?

---

6. तमिलनाडु में फ़सल पर आधारित कौन-सा पर्व मनाया जाता है ?

7. चाँद क्या सिलवाना चाहता था ?

8. ऑलंपिक के लिए क्वालिफ़ाई करने वाली भारत की पहली जिम्नास्ट कौन है ?


9. दीपा करमाकर किस राज्य की निवासी है ?

10. चाँद कहाँ सफ़र करता है ?

खंड : घ

[XIII] दिए गए शब्दों की सहायता से चित्र वर्णन पूरा कीजिए:  $\frac{1}{2} \times 6 = 3$

[ सूरज, काम, किसान, कुएँ, गेंद, पाठशाला ]







Sindhi High School, K.K Road ,Bengaluru-01.

Half Yearly Examination – (2023-24)

Subject: EVS

Date:4-10-2023

Name: \_\_\_\_\_

Marks: 40

Class: III A / B / C

Reading Time:8am to 8.15am

Roll No: \_\_\_\_\_

Writing Time:8.15am to 10.15am

No. of printed sides: 5



I. Choose the correct answer:

(4x<sup>1/2</sup>=2)

1. Animals that eat dead and decaying animals are \_\_\_\_\_.

a. Herbivores    b. Carnivores    c. Omnivores    d. Scavengers

2. The leaves of \_\_\_\_\_ are oily to touch.

a. Rose    b. Lotus    c. Cactus    d. Spinach

3. Honey bees suck \_\_\_\_\_ from flowers.

a. Nectar    b. Juice    c. Honey    d. Milk

4. \_\_\_\_\_ is the Isht Dev of Sindhis.

a. Vishnu    b. Uderolal    c. Jhulelal    d. Mirkhshah

II. Match the following: -

(4x<sup>1/2</sup>=2)

A

B

1. Humming bird

a. chlorophyll ( )

2. Silk

b. long sticky tongue ( )

3. Frogs

c. long curved beak ( )

4. Green pigment

d. silk worm ( )

(2x2=4)

III. Name two of the following: -

1. Animals that eat both plants and flesh of other animals.

\_\_\_\_\_, \_\_\_\_\_.

2. Birds that have broad and flat beaks to dig mud underwater.

\_\_\_\_\_, \_\_\_\_\_.

(4x $\frac{1}{2}$ =2)

IV. State True or False: -

1. Some insects are useful to us. - \_\_\_\_\_

2. Birds have teeth to bite. - \_\_\_\_\_

3. Mirakshah was a Hindu ruler. - \_\_\_\_\_

4. Zebra is an Omnivore animal. - \_\_\_\_\_

V. Fill in the blanks: -

(4x1=4)

1. The fallen leaves can be used to make \_\_\_\_\_.

2. The thick tail of the Kangaroo enables it to \_\_\_\_\_.

3. \_\_\_\_\_ make the soil fertile.

4. \_\_\_\_\_ feathers keeps the body of bird warm.

VI. Answer the following: -

(4x2=8)

1. How do birds communicate?

---

---

---

---

---

**2. Define photosynthesis.**

---

---

---

---

**3. Give two reasons for the birds to migrate.**

---

---

---

---

**4. What are extinct animals? Give examples.**

---

---

---

---

**VII. Name the following: -**

**(4x1=4)**

**1. An animal which has sharp front teeth to eat nuts -**

\_\_\_\_\_.

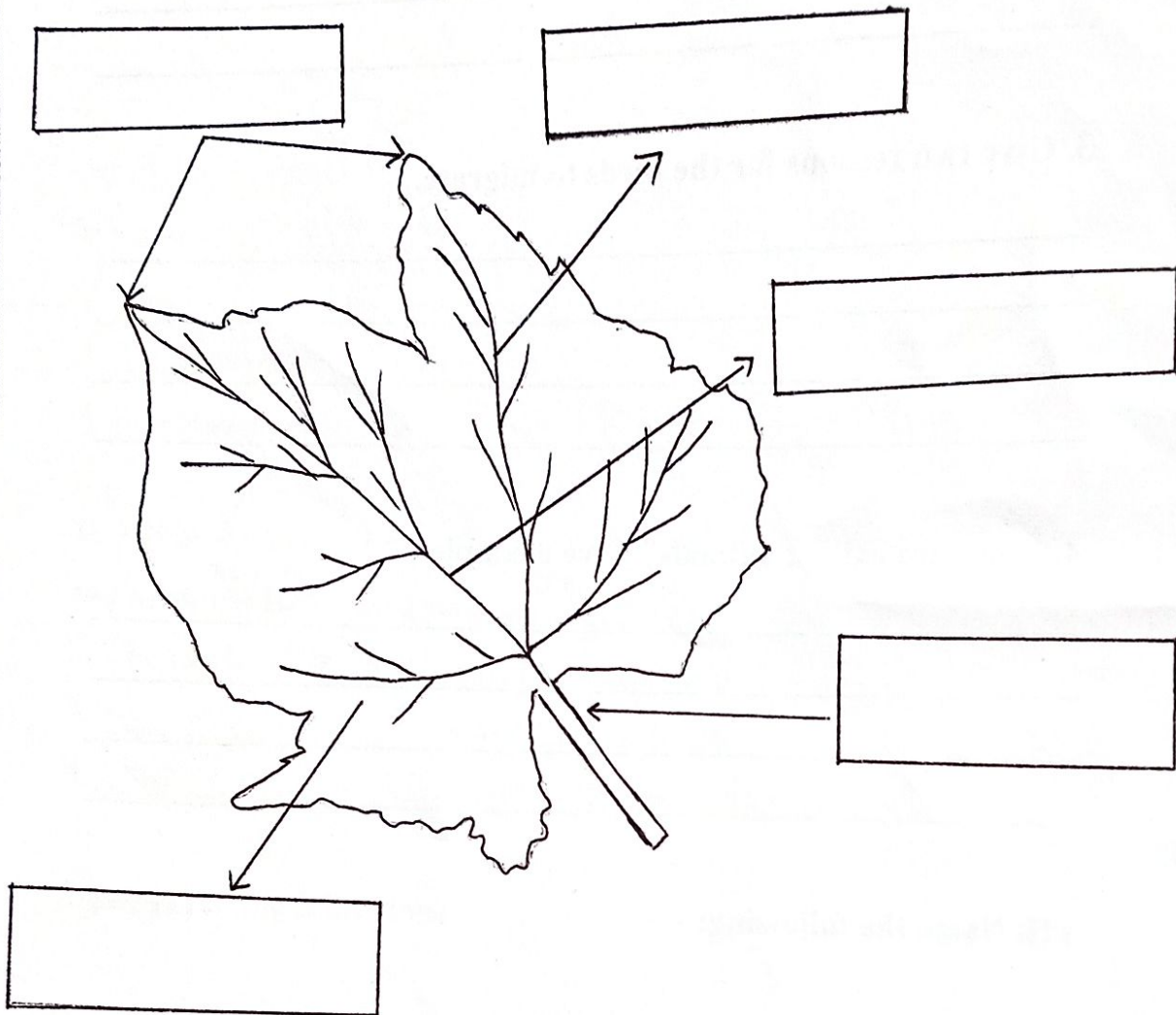
**2. The leaf that has medicinal value - \_\_\_\_\_.**

**3. Jhulelal was born as a gift of this lord - \_\_\_\_\_.**

**4. An insect that breeds in standing water - \_\_\_\_\_.**

**VIII. Label the structure of a leaf: -**

**(1x5=5)**



**IX. Analogy: -**

**(4x1=4)**

1. Tiger : tear flesh :: Leech : \_\_\_\_\_.
2. Locust : damage crops :: Termite : \_\_\_\_\_.
3. Coconut leaf : thatch for roofs :: Henna : \_\_\_\_\_.
4. Fly very high : Eagle :: Flightless bird : \_\_\_\_\_.

**X. Draw and colour any one insect and write any three uses of insects: -** **(2+3=5)**

---

---

---

---

---

---

---



Sindhi High School, K K Road, Bengaluru - 01.

Half Yearly Examination - 2023-24

Subject: Mathematics



Name: \_\_\_\_\_

Date: 06/10/2023

Class: 3 A / B / C

Marks: 40

Roll No: \_\_\_\_\_

Reading Time: 8:00 – 8:15

No of Printed Sides: 6

Writing Time: 8:15 – 10:15

Section A

I. Choose the correct answer: -

(1 X 5 = 5)

1.  $53 + 26 = 26 + \underline{\hspace{2cm}}$ .

- a) 53    b) 35    c) 26    d) 79

2.  $497 - 497 = \underline{\hspace{2cm}}$ .

- a) 5    b) 0    c) 8    d) 1

3.  $5 \times 1000 = \underline{\hspace{2cm}}$ .

- a) 0    b) 50    c) 5000    d) 500

4. The place value of the underlined digit in 6548 is \_\_\_\_\_.

- a) 600    b) 6000    c) 60    d) 6

5. A line segment extended on one side is called \_\_\_\_\_.

- a) Point    b) Ray    c) Line    d) None

(1 X 5 = 5)

II. Fill in the blanks: -

- 1) The result of addition is called \_\_\_\_\_.
- 2) \_\_\_\_\_ is taking away of a number from another.
- 3) Any number multiplied by zero gives the product \_\_\_\_\_.
- 4) A rectangle has \_\_\_\_\_ corners.
- 5) \_\_\_\_\_ is the number just after it.

Section B

(1 X 2 = 2)

III. Multiply: -

1)

Th	H	T	O
	5	9	3
	x		9

2)

Th	H	T	O
	3	2	4
	x		6

IV. Do as directed: -

(1 X 2 = 2)

1) Add :-

	Th	H	T	O
		8	9	1
+		0	5	6

2) Subtract:-

Th	H	T	O
	8	8	1
-	3	7	9

V. Form the greatest and smallest 4 digit number using the given digits: - (1/2 X 4 = 2)

SL. NO	DIGITS	GREATEST NUMBER	SMALLEST NUMBER
1)	0,3,4,9		
2)	6,8,1,5		


Section C

VI. Draw the mirror half of the given pictures:- (1 X 3 = 3)

1)



2)



3)





VII. Do as directed: -

(1 X 3 = 3)

A) Add the following

1)  $2451 + 5347$

	Th	H	T	O

B) Complete the following patterns:-

1) % & % \_\_\_\_\_

2)    \_\_\_\_\_

VIII. Multiply: -

(1 X 3 = 3)

1)  $120 \times 46$

	Th	H	T	O

2)  $378 \times 33$

	Th	H	T	O